

GEOMETRIA PROIETTIVA – A.A. 2009/2010  
QUARTO COMPITO – 14 LUGLIO 2010

**Esercizio 1.** Definiamo un *chiuso affine* in  $\mathbf{R}^n$  un insieme  $C$  che sia unione finita di sottospazi affini di dimensione  $k$  arbitraria (con  $0 \leq k \leq n$ ; l'unione vuota è ammessa).

Consideriamo il caso  $n = 2$  e definiamo

$$\tau = \{C \mid C \text{ chiuso affine in } \mathbf{R}^2\}$$

- (1) Mostra che  $\tau$  definisce una topologia su  $\mathbf{R}^2$ . Che relazione c'è fra  $\tau$  e la topologia euclidea?
- (2) Lo spazio  $(\mathbf{R}^2, \tau)$  è compatto? È connesso? È di Hausdorff?

---

**Soluzione.**

(1) = (3)

$S^1$

(2)  $S^1 \vee S^1$

(4)  $\bigcirc$  Non è  $T_2$

$1 \neq 2 \quad 2 \neq 4 \Rightarrow 1 \neq 4$

solo 1 e 3 sono  $\cong$   
 altri sono  
 $\neq$

GEOMETRIA PROIETTIVA - A.A. 2009/2010  
 QUARTO COMPITO - 14 LUGLIO 2010

Esercizio 2. Si consideri la circonferenza:

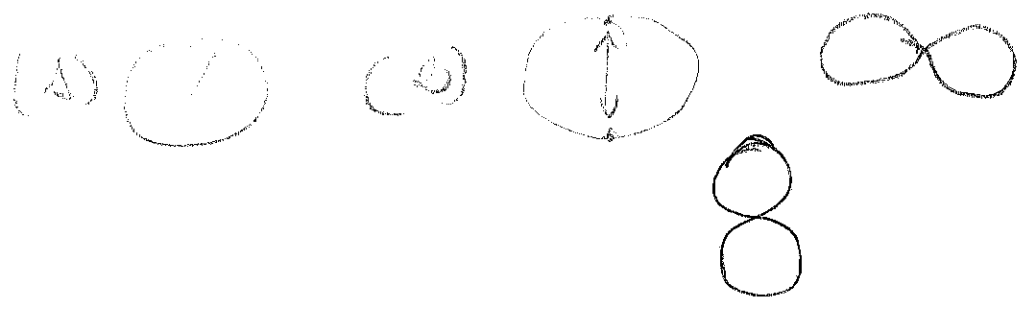
$S^1 = \{z \in \mathbb{C} \mid |z| = 1\}$ .

Dire quali fra i seguenti spazi topologici sono omeomorfi:



- (1)  $S^1$
- (2)  $S^1/\sim$  con la relazione di equivalenza  $x \sim y \Leftrightarrow x = y$  oppure  $\{x, y\} = \{i, -i\}$ .
- (3)  $\mathbb{R}/\sim$  con la relazione di equivalenza  $x \sim y \Leftrightarrow x = y$  oppure  $\|x\|, \|y\| \geq 1$ .
- (4)  $\mathbb{R}/\sim$  con la relazione di equivalenza  $x \sim y \Leftrightarrow x = y$  oppure  $\|x\|, \|y\| > 1$ .

$\curvearrowright$   $\cup \{x \mid \|x\| = 1\}$


Soluzione.



$\Rightarrow 1 \neq 2$   
 se toglgo un pto  $\Delta$   
 resta connesso 2 no  
 diverso sconnesso



(3)



è proprio lo  
~~spazio~~  $S^1$  circouf.

$\Rightarrow 3 \cong 1$

(4)



Non è  $T_2 \Rightarrow 4 \neq 1$   
 $1 \neq 4$

GEOMETRIA PROIETTIVA - A.A. 2009/2010  
QUARTO COMPITO - 14 LUGLIO 2010

Esercizio 3. Sia  $(X, d)$  uno spazio metrico compatto. Sia  $x_0$  un punto di  $X$

- (1) Mostra che  $x_0$  è isolato se e solo se  $X \setminus \{x_0\}$  è compatto.
- (2) Mostra che l'insieme

$$\{d(x_0, x) \mid x \in X\} \subset \mathbb{R}$$

ha un massimo  $M$ . I punti che distano  $M$  da  $x_0$  formano un sottoinsieme compatto di  $X$ ?

Soluzione.

$$\{d(x_0, x) \mid x \in X\} \subset \mathbb{R}$$

Fisso  $x_0$  e considero  $d(x_0, -) : X \rightarrow \mathbb{R}$  è f. continua

l'immagine è chiusa e limitata, ha un max  $M$ .

$\{x \in X \mid d(x, x_0) = M\}$  è chiuso in  $X$  (perché è  $f^{-1}(M)$  per una f. continua) quindi compatto

$f(\text{compatto})$  è compatto  $\Rightarrow$  chiuso e limitato

Lo so  
vedo che  
è un chiuso e  
compatto.

GEOMETRIA PROIETTIVA – A.A. 2009/2010  
QUARTO COMPITO – 14 LUGLIO 2009

**Esercizio 4.** Sia  $\pi = \{x_0 + x_1 = 0\}$  un piano proiettivo nello spazio proiettivo complesso  $\mathbb{C}P^3$  di coordinate  $x_0, x_1, x_2, x_3$ .

Sia  $z$  un numero complesso. Si consideri la retta proiettiva

$$r_z = \{[t + u, t - u, uz, -uz] \mid t, u \in \mathbf{C}\}$$

dipendente dal parametro  $z$ .

- (1) Determina i punti che appartengono a tutte le rette  $r_z$ , al variare di  $z$  in  $\mathbf{C}$ .
- (2) Determina l'insieme dei punti di  $\pi$  che sono contenuti in  $r_z$  per qualche  $z$ .

---

**Soluzione.**